



ACTIVIDADES DE MATEMÁTICAS

3ero A-B

“Educando para la Eternidad”

Profesor(a)	Marisol Miranda Monardes
OA (AE)	Representar situaciones de su entorno que involucran un reparto equitativo través de una división utilizando la multiplicación para resolverlas.
IFE	“Os ruego, hermanos, por el nombre de nuestro Señor Jesucristo, que todos os pongáis de acuerdo, y que no haya divisiones entre vosotros, sino que estéis enteramente unidos en un mismo sentir y en un mismo parecer.” Corintios 1:10

Fecha (semana a trabajar)	Actividades	Links o de ayuda de ayuda u otros recursos
7 al 11 de septiembre	Desarrollan guía de trabajo enviada por papinotas, además de las páginas 142 y 143 de su texto de estudio.	Se adjunta guía de trabajo



GUÍA 2 DE MATEMÁTICAS 3ro básico A-B

“Educando para la Eternidad”

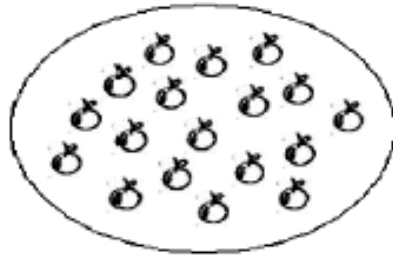
Nombre alumno		Fecha	
Profesora	Marisol Miranda Monardes		
OA (AE)	Representar situaciones de su entorno que involucran un reparto equitativo través de una división utilizando la multiplicación para resolverlas.		

1) Reparte en partes iguales los objetos de cada grupo según se te indica.

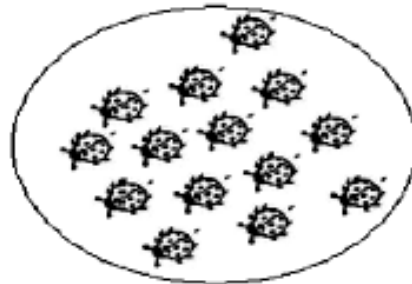
En 2 partes.



En 9 partes



En 7 partes



2) Resuelve los siguientes problemas utilizando la división.


EJEMPLO

a) En un curso hay 12 niños. El profesor de educación física les solicita formar 2 equipos de fútbol para poder hacer un partido. ¿ Cuántos niños hay en cada equipo?

DATOS

- 12 NIÑOS EN TOTAL
- 2 EQUIPOS DE FÚTBOL

REPRESENTO EL PROBLEMA CON UN DIBUJO



HICE 2 EQUIPOS DE 6 NIÑOS CADA UNO

HAGO LA DIVISIÓN

$$12:2=6$$
$$\begin{array}{r} 12 \\ -12 \\ \hline 0 \end{array}$$

COMPRUEBO LA DIVISIÓN CON UNA MULTIPLICACIÓN

El resultado de la división es 6, pues $2 \times 6 = 12$

RESPONDO LA PREGUNTA

Cada equipo tiene 6 niños

b) La mamá debe repartir en partes iguales 25 gajos de naranja entre sus 5 hijos. ¿Cuántos gajos de naranja le tocan a cada niño?

DATOS	REPRESENTO EL PROBLEMA CON UN DIBUJO	HAGO LA DIVISIÓN
COMPRUEBO LA DIVISIÓN CON UNA MULTIPLICACIÓN		
RESPONDO LA PREGUNTA		

c) Juanito tiene una verdulería. Recibió 18 kilos de plátanos, los cuales debe repartir en partes iguales en 3 cajas para poder ordenar su local.
¿Cuántos kilos de plátanos quedan en cada caja?

DATOS	REPRESENTO EL PROBLEMA CON UN DIBUJO	HAGO LA DIVISIÓN
COMPRUEBO LA DIVISIÓN CON UNA MULTIPLICACIÓN		
RESPONDO LA PREGUNTA		

E) Ahora crea un problema matemático en el espacio asignado y resuélvelo según la plantilla

PROBLEMA

DATOS

REPRESENTO EL PROBLEMA CON UN DIBUJO

HAGO LA DIVISIÓN

COMPRUEBO LA DIVISIÓN CON UNA MULTIPLICACIÓN

RESPONDO LA PREGUNTA